

**GUIA TRABAJO MATEMÁTICA 1º BÁSICO**

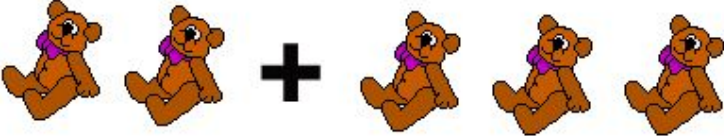





**PROFESORA VIVIANA BURGOS HERNÁNDEZ**

**SEMANA DEL 01 al 05 DE JUNIO**

1. OBSERVAN EL VIDEO, ANTES DE DESARROLLAR LA GUÍA, SOBRE COMO ADICIONAR.



<https://www.youtube.com/watch?v=eLojWiucZJE>



2. Resuelve los siguientes ejercicios.



	
	
	
	
	
	



3. Cuenta los elementos, escribe la cantidad y luego adiciona.

	+		=
	+		=

	+		=
	+		=

	+		=
	+		=



4. Resuelve, ayúdate de material concreto.

$3 + 5 = \square$	$2 + 6 = \square$
$4 + 3 = \square$	$3 + 7 = \square$
$5 + 5 = \square$	$1 + 9 = \square$

$4 + 4 = \square$	$1 + 5 = \square$
$3 + 3 = \square$	$4 + 3 = \square$
$2 + 0 = \square$	$3 + 5 = \square$
$6 + 1 = \square$	$8 + 1 = \square$
$1 + 3 = \square$	$3 + 6 = \square$
$2 + 4 = \square$	$0 + 9 = \square$
$0 + 1 = \square$	$2 + 7 = \square$
$5 + 2 = \square$	$2 + 1 = \square$