

GUIA TRABAJO MATEMÁTICA 3° y 4° BÁSICO

PROFESORA VIVIANA BURGOS HERNÁNDEZ

SEMANA DEL 15 al 19 DE JUNIO




1. Observa los videos explicativos de adiciones con dos cifras, hasta 100, en vertical utilizando material concreto, al igual que la semana anterior.

<https://www.youtube.com/watch?v=z3H9pjygZ8Q>

<https://www.youtube.com/watch?v=xrjLuSwAYEI>

2. Desarrollar ejercicios de la vida diaria, en las que están presentes adiciones hasta 100.

Hay 34 manzanas y 45 mandarinas.




a) ¿Cuántas frutas hay en total?

manzana	mandarina
34	45

+ =

Respuesta: frutas.


Compré calugas por 20 pesos y chicles por 50 pesos. ¿Cuánto pagué en total?



+ =

Respuesta: pesos.

Los niños prepararon una fiesta. Ayer hicieron 74 anillos de papel y hoy 23. ¿Cuántos anillos hicieron en total?



Un estacionamiento tiene 28 autos. Llegaron algunos más y ahora hay 36.

a) Si X representa los autos que llegaron. ¿cómo plantearías la suma?

+ =



Nicolás registra la cantidad de páginas que lee cada día.



Título: Aventuras de José

Día	Páginas leídas
día 1	20
día 2	10
día 3	10

- a) ¿Cuántas páginas ha leído?
- b) Este libro tiene 100 páginas. ¿Cuántas páginas le quedan?



En el 2ºA hay 28 niños. En 2ºB son 30, y en el 2ºC 31.

- a) ¿Cuántos niños hay en total en 2ºA y 2ºB?

$$\square + \square = \square$$

Respuesta: niños.

- b) Si sumamos los niños de 2ºB y 2ºC, ¿cuántos hay en total?


$$\square + \square = \square$$

Respuesta: niños.

En el colegio de Francisca, hay dos cursos en segundo básico. Hay 31 niños en 2º A y 28 niños en 2º B. ¿Cuántos niños en total hay en 2º básico?



Si compras chicles a \$ 85 y autoadhesivos a \$ 25 y solamente tienes \$ 100. ¿Cuánto dinero te falta?



GRAN DESAFIO

a) Compremos pasteles.



b) Jorge compró 1 queque, 2 medialunas y 5 galletones.
¿Cuánto dinero gastó?